

新竹市東區新竹國民小學 101 學年度下學期第一學月四年級社會科紙筆測驗

四年__班 座號:____ 姓名:_____

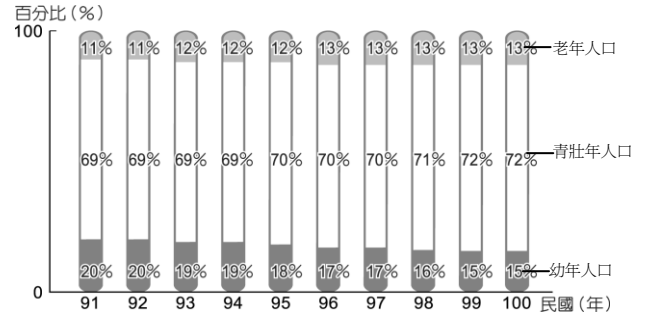
一、是非題(每題 2 分)

1. () 家鄉政府機構,不但方便居民的生活,也保障居民生命財產的安全。
2. () 「荒野保護協會」致力於環境保護、生態保育工作,屬於民間醫療團體。
3. () 新竹市土地不容易開發,因此交通建設少,人口也較少。
4. () 除了靠政府機構與民間團體的定期服務外,我們在日常生活中若遇到問題或困難,也可以主動以電話、網路等方式請求相關機構的協助。
5. () 政府每天都會進行人口普查,方便掌握最新人口資料。
6. () 今年元宵節期間,新竹縣高鐵站附近擠滿了賞花燈的民眾,使得新竹縣在燈會舉辦期間移入大量人口,成為全台人口數最多的縣市。
7. () 遇到家鄉機構的服務人員態度不佳,可以透過申訴管道要求改善。
8. () 人口大量移出的地區,通常面臨幼年及老年人口缺乏照顧的問題。
9. () 政府計畫實施 12 年國民教育,目的就是為了提升人口素質,提高人口競爭力。

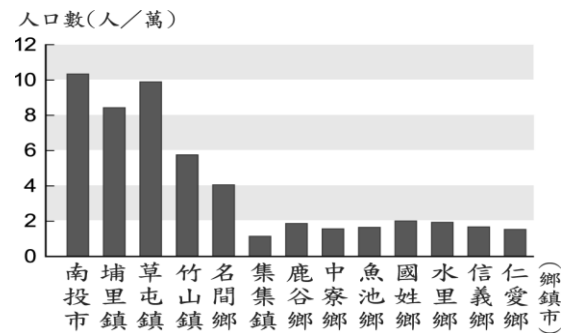
二、選擇題(每題2分)

1. () 下面哪一個地區的人口素質較低?
 ①甲地大學程度以上的人口占 20%
 ②乙地大學程度以上的人口占 35%
 ③丙地青壯年人口占 20%
 ④丁地大學程度以上的人口占 24%。
2. () 柯南市長擔任市長期間表現良好,深受市民的喜愛,因此又再度連任,請問柯南最多可以擔任幾年的市長職務呢?
 ①四年 ②六年 ③八年 ④十年。
3. () 龍馬上網查詢人口統計資料,他應該到哪個網站查詢呢? ①人事行政局 ②戶政事務所 ③派出所 ④教育局。
4. () 從下面這張圖表,我們可以看出家鄉的幼年人口和老年人口分別呈現哪種趨

勢嗎? ①兩者皆不斷下降 ②兩者皆不斷上升 ③幼年人口不斷上升,老年人口不斷下降 ④幼年人口不斷下降,老年人口不斷上升。

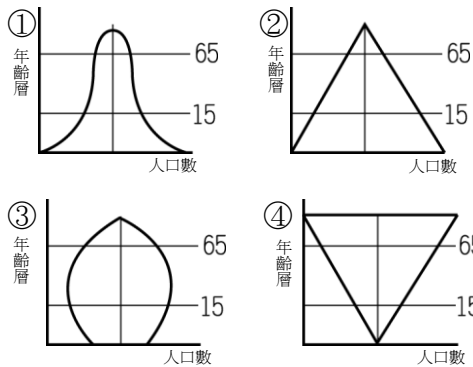


5. () 我們可以從下面這張人口統計圖知道什麼資訊呢? ①南投市的土地面積最大,所以人口最多 ②集集鎮的人口數量最少 ③此地人口數量正在減少 ④草屯鎮的人口數約有 9 萬人。



6. () 「新竹縣 尖石鄉多為高山深谷,因此居住人口較少。」請問造成尖石鄉人口少的主要原因是什麼? ①地勢起伏小 ②開發不便 ③地勢平坦 ④缺乏資源。
7. () 男女性別差距過大,會造成什麼社會問題? ①人口素質降低 ②適婚年齡人口找不到結婚對象 ③生產工作者減少 ④家鄉缺乏競爭力。
8. () 近年來老年人死亡率逐漸下降,臺灣也漸漸邁入老年化的國家,因此政府必須為老年人多做規畫。下列哪一項規畫是不良的? ①注重老年人的健康照護,提供充足的醫療照護資源 ②重視老年人生活安全,規畫安全的居住環境 ③將老年人與家庭隔離,集中管理 ④輔導老年人擔任志工或合適的工作。

9. () 下面有四個人口結構圖，請問哪一個家鄉的競爭力最差？



10. () 小婷是家中唯一的孩子，她的爸爸媽媽可能因為什麼原因而不想再生弟弟妹妹呢？
 ①家庭經濟困難 ②老年人口太多 ③平均壽命的增加 ④政府規定每戶人家只能生一個孩子。

11. () 下列哪些描述表示人口數可能漸漸減少？
 A 移入人口比移出人口多，B 移入人口比移出人口少，C 出生率比死亡率低，D 出生率比死亡率高：
 ①AC ②AD ③BC ④BD。

12. () 小潔一家七口人，爺爺 89 歲，爸爸 45 歲，媽媽 44 歲，姐姐 19 歲，哥哥 15 歲，小潔 13 歲，弟弟 9 歲。請問目前小潔家有幾個青壯年人口？
 ① 2 人 ② 3 人 ③ 4 人 ④ 5 人。

13. () 下面哪一項原因使得家鄉老年死亡人口逐漸下降？
 ①公共托育中心的增設 ②生育觀念的改變 ③教育普及 ④衛生與保健觀念的提升。

14. () 愛德華要出馬競選縣議員，請問議員最重要的工作是下面哪一項呢？
 ①幫政府監督居民的生活 ②幫地方政府向總統陳情 ③幫居民監督政府施政 ④以上都是。

15. () 小胖和居民想要自組一個關懷流浪動物的團體，請問他應該怎麼做呢？
 ①想好團體名稱就可以成立 ②只要人數達到十人就可以成立 ③等議員開會討論決定 ④向政府提出組織團體的申請。

三、連連看(每條連線 2 分)

1. 下面這些政府人員是怎麼產生的？請連連看。

- (1) 新竹市長 · · ㄅ、人民選舉
 (2) 新竹市議長 · · ㄆ、議員互相推選
 (3) 新竹市議員 · · ㄇ、申請國軍支援救災

2. 家鄉各機構負責哪些工作呢？

- (1) 消防單位 · · ㄅ、申請國軍支援救災
 (2) 兵役單位 · · ㄆ、災害搶救
 (3) 環保單位 · · ㄇ、清掃環境及清除垃圾
 (4) 衛生單位 · · ㄏ、設定急救站

四、勾選題(每個答案 1 分)

1. 關於議會的敘述，哪些是正確的呢？請打√。

- (1) () 由議長主持會議。
 (2) () 是議員開會討論政府提案和預算的場所。
 (3) () 是民意機關。
 (4) () 是選舉地方首長的投票場所。
 (5) () 是地方首長的辦公地點。

2. 劉姥姥是一位非常傳統的女性，在她的生活上仍保有許多傳統觀念，請問下列哪些是劉姥姥可能的想法，請打√。

- (1) () 男主外，女主內
 (2) () 重男輕女
 (3) () 傳宗接代
 (4) () 成年女性應該在家裡照顧小孩，不該外出工作。

五、活用題(每個答案 1 分)

1. 縣(市)首長是怎麼產生的？請依照正確的步驟，在 () 中填入 1~5。

- (1) () 發表政見。
 (2) () 登記參選。
 (3) () 開票、計票。
 (4) () 公告結果。
 (5) () 投票。


2. 請你把政府機構的代號與它所負責工作項目配對，請填代號作答。

A、衛生局	B、郵局	C、警察局
D、社會局	E、文化局	F、教育局

- (1) () 負責國民中小學輔導教育工作，規畫學生主題學習活動。
 (2) () 預防犯罪，取締違規。
 (3) () 負責藥物、食品衛生管理。
 (4) () 負責文化資產保存、推廣，辦理藝文與展覽活動。
 (5) () 負責社區發展的執行，社會救助與社會福利的申請。

3. 幸福城市原有200000人，今年的出生人口有2000人，死亡人口2500人，移出人口有3500人，移入人口有4500人，請問總人口數會變為_____人。

4. 請看下面圓餅圖回答問題。



(1) 哪個地方從事工業的人口較多？_____ (填入甲地或乙地)。

(2) 甲地居民從事_____業的人口比例最多 (填入產業名稱)。

(3) 乙地居民從事_____業的人口比例最少 (填入產業名稱)。

(4) 這兩張圓餅圖中，哪一張可能是屬於都市居民的行業圓餅圖？_____。

5. 下面這張人口統計圖是新竹國小四年十三班同學一起製作的，我們一起看這張統計表回答下面問題。

代號	縣市別	男 (人)	女 (人)	合計 (人)
A	臺北市	1276343	1374625	2650968
B	新北市	1939844	1976607	3916451
C	桃園縣	1013618	999687	2013305
D	新竹市	208390	211662	420052
E	臺中市	1324894	1339500	2664394
F	臺南市	943899	933061	1876960
G	高雄市	1388530	1385940	2774470

(1) 從統計表中，我們可以知道_____的人口總數最多(請填入英文字母代號)。

(2) 接續上題，哪些原因可能是這個地方人口較多的原因？請打✓。

- ① () 面積較小。
- ② () 地勢較高。
- ③ () 工商業較發達。
- ④ () 交通較便利。

(3) 根據統計表中的數據，哪些縣市的女生人數比男生人數多？_____ (填代號)

6. 請閱讀下列文章後，再回答問題。

去年夏天天秤颱風肆虐蘭嶼，不但吹起17級強陣風，還挾帶12公尺的巨浪，一夕之間，讓這個美麗的渡假天堂幾乎變成廢墟，島上到處都是被海浪沖上岸的巨石。

天秤威力強，造成環島公路毀損、電力中斷，對外交通也完全中斷。蘭嶼鄉公所表示，颱風帶來嚴重災情，居民生活陷入困境，糧食不足，急需民生救援物資。因此，台東縣政府申請空勤用直升機，運送1,000斤白米和救援物資到蘭嶼的緊急安置所。

蘭嶼對外交通已經中斷了好幾天，其中，在蘭嶼機場，因颱風期間海浪太大，跑道堆滿漂流木和海水沖上來的石頭，出現破損，也在搶修中。

蘭嶼百廢待舉，各界目前正全力救援中。面對蘭嶼史上最慘重的颱風災情，蘭嶼椰油國小教師顏子喬在臉書上表示，「路斷了、牆倒了、船毀了、糧空了…但大家一起堅強面對，相信蘭嶼很快就能災後重生！」上百位網友也在臉書上留言，替蘭嶼加油，並希望政府相關單位重視蘭嶼的困境，儘速協助居民災後重建。

(1) () 颱風來襲時，哪個單位必須緊急成立防颱指揮中心，以統籌救災人力與資源調度？①總統府②台東縣政府③台東縣議會④蘭嶼鄉公所。

(2) () 風災發生後，台東縣的兵役單位向國軍提出人力支援救災，請問上面提到的人力是指什麼？①警察②消防員③阿兵哥④醫生。

(3) () 蘭嶼島上的大停電，必須趕緊連絡哪一單位到現場搶修，以恢復正常供電？①警政單位②衛生單位③台電公司④消防單位。

(4) () 搶救過程中如發現有人溺水時，不可以馬上下水搶救，要趕緊連絡哪個單位來協助？①環保單位②衛生單位③兵役單位④消防單位。

(5) () 各地救濟物資運送到緊急安置所後，會怎麼處理呢？①由議員發放物資給災民②由社會福利人員逐一把物資分配給災區居民③請教育單位挨家挨戶發放④請醫療衛生單位負責分配。